

МУНИЦИПАЛЬНОЕ БЮДЖЕТНОЕ
ОБЩЕОБРАЗОВАТЕЛЬНОЕ УЧРЕЖДЕНИЕ «СРЕДЕЯЯ
ОБЩЕОБРАЗОВАТЕЛЬНАЯ ШКОЛА № 88 ИМЕНИ
А.БОРОДИНА И А.КОЧЕВА»

РАССМОТРЕНО

МО учителей начальных
классов МБОУ «СОШ
№ 88 им. А.Бородина и
А.Кочева» (протокол №1
от 30.08 2023 г.)

СОГЛАСОВАНО

Заместитель директора
по УМР МБОУ «СОШ № 88 им.
А.Бородина и А.Кочева»

Смолонская М.А.
(ФИО)

УТВЕРЖДЕН

Приказ МБОУ «СОШ № 88
им. А.Бородина и А.Кочева»

от 05.09 2023 г. № 266

ФОНД ОЦЕНОЧНЫХ СРЕДСТВ

ПО ОКРУЖАЮЩЕМУ МИРУ

для обучающихся с задержкой психического развития (ЗПР)

(вариант 7.1)

2-4 классы

Разработчики:
Бычкова В.В.
Болотова В. П.

Северск 2023

КОНТРОЛЬНО-ОЦЕНОЧНЫЕ СРЕДСТВА
по
окружающему
миру
для обучающихся с задержкой психического развития (ЗПР)
(вариант 7.1)
для 2 класса

Разработчик:
Бычкова В. В.

Комплекты контрольно-оценочных средств в соответствии с примерным перечнем

по окружающему миру

2 класс

Входная контрольная работа №1

Вариант 1.

Цель входного контроля – оценить уровень подготовки учащихся в начале учебного года.

Контрольная работа содержит 10 заданий: 10 заданий базового уровня.

Общее время выполнения заданий – 40 минут.


Задание 1. Подчеркни только осенние месяцы.

Сентябрь, январь, декабрь, октябрь, февраль, ноябрь, март.


Задание 2. Когда улетают перелётные птицы? Подчеркни правильный ответ.

1) осенью 2) зимой 3) весной 4) летом

Задание 3 На какой картинке изображён клён? Обведи правильный ответ.



Задание 4. Какая птица изображена на картинке? Укажи стрелкой



1) ворона

2) голубь

3) снегирь

Задание 5. Обведи только перелётных птиц.

1) воробей

2) грач

3) скворец

Задание 6. Подчеркни только хищников.

1) заяц

2) тигр

3) корова

4) орёл

Задание 7. Сколько ног у пауков, обведи правильный ответ.

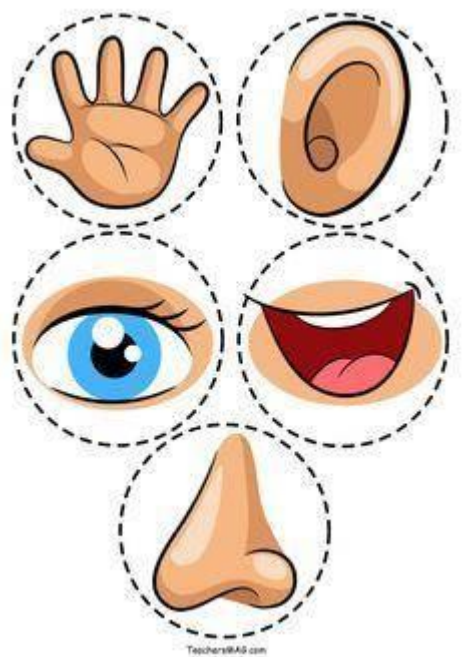
1) 2

2) 4

3) 6

4) 8

Задание 8. Соедини стрелками.




Осязание

слух
обоняние
зрение
вкус

Задание 9. Как называется орган человека, который помогает различать разные цвета? Отметь правильный ответ.

- 1) ухо
- 2) глаз
- 3) рука
- 4) нос

Задание 10. Раскрась Государственный флаг нашей страны.



**Входная контрольная работа по окружающему миру во 2 классе
Вариант 2.**

Задание 1. Подчеркни только весенние месяцы.

Сентябрь, апрель, декабрь, май, февраль, ноябрь, март.


Задание 2. Когда возвращаются перелётные птицы? Подчеркни правильный ответ.

- весной 4) летом*
1) осенью 2) зимой 3)

Задание 3 На какой картинке изображена ель? Обведи правильный ответ.



Задание 4. Какая птица изображена на картинке? Укажи стрелкой



Попугай

1. _____
2. Ласточка
3. Дятел
4. _____

Задание 5. Обведи только зимующих птиц.

- 1) синица
- 2) соловей
- 3) ворона

Задание 6. Подчеркни только рыб.

- 1) окунь
- 2) щука
- 3) корова
- 4) орёл

Задание 7. Сколько ног у насекомых. Обведи правильный ответ.

- 1) 2 2) 4 3) 6 4) 8

Задание 8. Запиши название органа чувств.

Осязание - руки (кожа)

Слух - _____

Обоняние - _____

Зрение - _____

Вкус - _____

Задание 9. Как называется орган человека, который помогает различать разные запахи? Отметь правильный ответ.

- 1) ухо
- 2) глаз
- 3) рука
- 4) нос

Задание 10. Перечисли цвета, которые есть на Государственном флаге нашей страны.

_____.

№ задания	Оцениваемые умения	Вариант 1	Вариант 2	Максимальный балл
1-2(Б)	Соотносить изученные природные объекты и явления с их описаниями или характерными свойствами	Сентябрь, октябрь, ноябрь. (1)	Март, апрель, март. (3)	По одному баллу за каждое задание
3 (Б)	Различать изученные объекты и явления живой	4я картинка	1я картинка	1

	природы по рисункам, фотографиям и схемам			
4(Б)	Проводить простейшую классификацию изученных объектов живой природы	1	2	1
5(Б)	Обнаруживать простейшие связи между живой и неживой природой, взаимосвязи в живой природе, использовать их для объяснения бережного отношения к природе	2,3	1,3	1
6(Б)	Сравнивать природные объекты на основе их внешних признаков или характерных свойств	2,4	1,2	1
7(Б)	Выделять основные признаки изученных объектов и явлений живой и неживой природы	4	3	1
8(Б)	Различать органы чувств человека	Рука, ухо, нос, глаза, язык.	Рука, ухо, нос, глаза, язык	1
9(Б)	Различать органы чувств человека	2	4	1
10(Б)	Различать государственные символы Российской Федерации	Белый, синий, красный	Белый, синий, красный	1
				10

Оценка результатов контрольной работы:

10 - 5 баллов - «Зачёт»

4 - 0 баллов – «Незачёт»

Контрольная работа №2

Оценивание.

В заданиях 1, 3, 6, 7, 8, 9, 10 за выбор правильного варианта ставится 1 балл. В задании 2 ставится по 1 баллу за каждое верное соответствие. В задании 4 ставится по 1 баллу за каждый верный вариант. В задании 5 ставится 1 балл за двух верно записанных животных. Максимальный балл за работу – 13.

«Зачёт» - 6 - 13 баллов

«Не зачёт» - менее 6 баллов

Время выполнения – 40 минут.

Вариант – 1.

1. Определи, у каких растений один твёрдый, древесный ствол.

- А) Травы; Б) Кустарники В) Деревья.

2. Установи соответствие.

Звери	две ноги, два крыла, перья
Птицы	четыре ноги, шерсть
Рыбы	плавники, чешуя

3. Какие действия человека не вредят природе?

- А) Отлавливание божьих коровок; Б) Вырубка леса;
В) Использование ядохимикатов; Г) Посадка растений;

4. Какие прядильные культурные растения человек использует для получения тканей?

- А) Хлопок; Б) Пшеница; В) Лён.

5. Запиши названия трёх диких животных:

6. Какие растения относятся к комнатным растениям?

- А) Герань, фиалка, традесканция.
Б) Ирис, колокольчики, нарцисс.
В) Плющ, шиповник, кактус.

7. Найди названия аквариумных рыбок?

- А) Сазан, коробок, пескарь.
Б) Акула, электрический скат, пиранья.
В) Меченосец, гуппи, вуалехвост.

8. Какая порода собак помогает пасти овец, очень ласковая, любит маленьких детей, её называют шотландской овчаркой?

- А) Терьер; Б) Чау – чау; В) Колли.

9. К какому врачу ты обратишься, если твой домашний питомец заболел?

- А) к педиатру Б) к ветеринару В) к терапевту

10. Какое растение встречается в лесу, зацветает на 15 – 17 году жизни, занесено в Красную книгу?

- А) одуванчик Б) колокольчик В) венерин башмачок

Вариант - 2

1. Определи, у каких растений один или несколько сочных, мягких, стеблей.

- А) Травы; Б) Кустарники; В) Деревья.

2. Установи соответствие.

Насекомые	четыре ноги, шерсть
Птицы	шесть ног
Звери	две ноги, два крыла, перья

3. Какое утверждение верное:
 А) Лягушек надо уничтожать. Б) Ящериц надо отлавливать.
 В) Нельзя брать домой детёнышей диких животных.
4. Какие зерновые культурные растения выращивает человек?
 А) Хлопок; Б) Пшеница; В) Овёс.
5. Запиши названия трёх домашних животных:
-
-
6. Какие растения относятся к комнатным растениям?
 А) Плющ, шиповник, кактус
 Б) Герань, фиалка, традесканция.
 В) Ирис, колокольчики, нарцисс.
7. Найди названия аквариумных рыбок?
 А) Сомик, макропод, вуалехвост.
 Б) Акула, электрический скат, пиранья.
 В) Сазан, коробок, пескарь.
8. Какая порода собак хорошо плавает, ныряет, её называют водолазом, учат спасать людей?
 А) Русская борзая; Б) Ньюфаундленд; В) Спаниель.
9. К какому врачу ты обратишься, если твой домашний питомец заболел?
 А) к педиатру Б) к терапевту В) к ветеринару
10. Найди насекомое, которое занесено в Красную книгу.
 А) стрекоза Б) божья коровка В) дровосек реликтовый

Ключи:

1 вариант.

1. В) Деревья.
2. Звери — две ноги, два крыла, перья
 Птицы — четыре ноги, шерсть
 Рыбы — плавники, чешуя
3. Г) Посадка растений
 4. А) Хлопок, В) Лён
 5. Медведь, волк
 6. А) Герань, фиалка, традесканция.
 7. В) Меченосец, гуппи, вуалехвост.
 8 В) Колли.
 9 Б) к ветеринару
 10 В) венерин башмачок

2 вариант

1. А) Травы

A3. Какое явление относится к осадкам?

- 1) гром
- 2) дождь
- 3) радуга
- 4) ветер

A4. К какой группе животных относятся лягушки?

- 1) к земноводным
- 2) к зверям
- 3) к насекомым
- 4) к рыбам

A5. Что производит лёгкая промышленность?

- 1) станки
- 2) одежду
- 3) шерсть
- 4) кино

A6. К какому виду транспорта относится вертолёт?

- 1) к водному
- 2) к наземному
- 3) к воздушному
- 4) к подземному

A7. Какие функции выполняют лёгкие?

- 1) орган дыхания
- 2) орган пищеварения
- 3) управляют работой организма
- 4) гоняют кровь по телу

A8. По какому телефону нужно вызывать скорую помощь?

- 1) 01
- 2) 02
- 3) 03
- 4) 04

A9. Как называется земная поверхность, которую мы видим вокруг себя?

- 1) горизонт
- 2) линия горизонта
- 3) Земля
- 4) открытая местность

A 10. Как называются углубления с крутыми склонами на равнинах?

- 1) горы
- 2) холмы
- 3) овраги
- 4) балки

B1. Что растёт в водоёмах?

- 1) ландыш
- 2) кувшинка
- 3) лютик
- 4) вороний глаз

B2. Чем ты можешь помочь родителям по дому?

- 1) починить розетку
- 2) отремонтировать утюг
- 3) потравить насекомых
- 4) сходить за хлебом

B3. Как нужно вести себя в автобусе?

- 1) громко смеяться
- 2) толкать пассажиров, если мало места
- 3) уступать места пожилым людям
- 4) ехать на нижней подножке

Вариант 2.

A1. Что относится к живой природе?

- 1) Солнце
- 2) воздух
- 3) мухомор
- 4) лодка

A2. Назови природное явление, не связанное с изменением сезона

- 1) сильный ветер
- 2) листопад
- 3) таяние льда
- 4) появление почек на деревьях

A3. Назови погодное явление

- 1) течение реки
- 2) снегопад
- 3) восход солнца
- 4) прилёт птиц

A4. Назови группу животных, к которым относится бабочка

- 1) насекомые
- 2) земноводные
- 3) птицы
- 4) звери

A5. Что не относится к сельскохозяйственному труду?

- 1) уборка урожая
- 2) пошив одежды
- 3) выпас скота
- 4) посевные работы

A6. Укажи специальный вид транспорта

- 1) метро
- 2) самолёт
- 3) аварийная газовая служба
- 4) автобус

A7. Какова функция желудка?

- 1) орган дыхания
- 2) разносит кровь по телу
- 3) там находится мозг
- 4) орган пищеварения

A8. По какому телефону звонить, если незнакомый человек пытается открыть дверь?

- 1) 01
- 2) 02
- 3) 03
- 4) 04

A9. Куда должен указывать синий конец стрелки компаса?

- 1) на юг
- 2) на север
- 3) на запад
- 4) всё равно

A10. Как называют реку, впадающую в другую реку?

- 1) исток
- 2) устье
- 3) приток
- 4) рукав

B1. Что ты возьмёшь с собой в театр на спектакль?

- 1) бинокль
- 2) собаку
- 3) бутерброд
- 4) сотовый телефон

B2. Какой материк поделён на две части света?

- 1) Австралия
- 2) Евразия
- 3) Северная Америка
- 4) Африка

B3. Как ты будешь вести себя в гостях?

- 1) громко разговаривать
- 2) брать любые вещи, если захочу их посмотреть
- 3) спокойно играть со своим другом
- 4) сидеть с обиженным лицом

Входная контрольная работа

Цель: определение уровня овладения естественно-научными компетентностями обучающимися 3-х классов.

Вариант №1

1. Какого месяца не хватает?

Март, апрель, _____, июнь

2. Укажи предмет живой природы.

А) Солнце Б) камни В) Луна Г) трава

3. Укажи, в какое время года можно наблюдать набухание почек, появление листьев, прилёт птиц?

А) зимой Б) весной В) летом Г) осенью

4. В какой группе перечислены только дикие животные?

А) лошадь, кошка, пчела, барсук

Б) крот, лось, ёж, кабан

В) лягушка, собака, курица, овца

Г) заяц, белка, олень, корова

5. Для чего нужен термометр?

А) для определения сторон горизонта

Б) для определения температуры

В) для измерения длины

6. Укажи, что обозначает одно маленькое деление на термометре.

А) один миллиметр Б) один шаг

В) один градус Г) один сантиметр

7. Подчеркни одной чертой названия планет.

А) Марс, Б) Земля, В) Луна, Г) Венера, Д) Сатурн, Е) Солнце.

8. Определи, о каком времени года идёт речь.

Солнце уже высоко не поднимается, дни становятся короче, а ночи длиннее. Вот уже и реки, озёра, пруды сковал лёд, замёрзла почва. Вся земля покрыта мягким, воздушным, снежным одеялом. Почти каждый день дуют холодные ветры. Часто можно наблюдать снегопады и метели. Погода стоит морозная.

Ответ: _____

9. Допиши предложения.

Название нашей страны – _____.

Государственный язык в России – _____.

10. Укажи предмет, которым могут пользоваться все члены семьи.

А) полотенце Б) расчёска В) зубная щётка Г) шампунь

11. Пронумеруй единицы измерения времени в порядке их увеличения:

<input type="radio"/>	Год	<input type="radio"/>	Сутки
<input type="radio"/>	Месяц	<input type="radio"/>	Неделя
<input type="radio"/>	Минута	<input type="radio"/>	Час
<input checked="" type="radio"/>	1 Секунда		

12. О какой отрасли экономики идёт речь? Работники этой отрасли занимаются перевозкой пассажиров, перевозкой грузов.

А. Торговля; Б. Транспорт; В. Строительство.

13. К какому виду транспорта относятся грузовые машины, скорая помощь, пожарная машина, экскаватор?

А. Наземный; Б. Водный; В. Воздушный; Г. Подземный.

Вариант №2

1. Какого месяца не хватает?

Июнь, июль, _____, сентябрь

2. Укажи предмет неживой природы.

А) рыба Б) озеро В) трава Г) насекомое

3. Укажи, что не относится к признакам лета?

А) жаркая погода Б) цветение трав В) листопад Г) длинные дни, короткие ночи.

4. В какой группе перечислены только домашние животные?

А) оса, волк, бобр, заяц
Б) коза, индюк, лисица, медведь
В) овца, корова, курица, собака
Г) слон, кролик, жираф, пчела

5. Для чего нужен компас?

А) для измерения длины

Б) для определения сторон горизонта

В) для измерения температуры тела

6. Укажи, что обозначает одно маленькое деление на компасе.

А) один миллиметр Б) один шаг

В) один градус Г) один сантиметр

7. Подчеркни одной чертой названия планет.

А) Солнце, Б) Луна, В), Юпитер, Г) Земля, Д) Сатурн, Е) Венера,.

8. Определи, о каком времени года идёт речь.

По высокому голубому небу медленно и плавно плывут белоснежные лёгкие облака. С каждым днём становится теплее и теплее. Тает снег, журчат по дорогам ручьи, появляются первые проталинки, на реках начинается ледоход. А осадки теперь выпадают в виде дождя. На деревьях набухают почки, зацветают первоцветы.

Ответ: _____

9. Допиши предложения.

Название столицы нашей страны – _____.

Государственный язык в России – _____.

10. Укажи предмет, которым могут пользоваться все члены семьи.

А) полотенце Б) зубная паста В) зубная щётка Г) расческа

11. Пронумеруй единицы измерения времени в порядке их увеличения:

- | | | | |
|----------------------------------|----------|-----------------------|--------|
| <input type="radio"/> | Май | <input type="radio"/> | Август |
| <input type="radio"/> | Сентябрь | <input type="radio"/> | Июнь |
| <input type="radio"/> | Июль | <input type="radio"/> | Апрель |
| <input checked="" type="radio"/> | Март | | |

12. О какой отрасли экономики идёт речь? Работники этой отрасли занимаются продажей товаров

А. Торговля; Б. Транспорт; В. Строительство.

13. К какому виду транспорта относятся корабль, катер, лодка, яхта

А. Наземный; Б. Водный; В. Воздушный; Г. Подземный.

Ключи к работе:

№ п/п	Правильный ответ 1 вариант	Правильный ответ 2 вариант	Баллы
1	Май	Август	1 балл
2	Г	Б	1 балл
3	Б	В	1 балл
4	Б	В	1 балл
5	Б	Б	1 балл

6	В	В	1 балл
7	А, Б, Г, Д	А, Б, Г, Д	за 3,2 верных ответа – 0,5 баллов; за 4 верных ответа – 1 балла
8	Зима	Весна	1 балл
9	Россия Русский	Москва Русский	За каждый верный ответ - 1 балл. Максимально – 2 балла
10	Г	Б	1 балл
11	7, 6, 2, 1, 4, 5, 3	3, 7, 5, 1, 6, 4, 2	За 2 верных ответов – 1 балл, За 4 верных ответов и более – 2 балла
12	Б	А	1 балл
13	А	Б	1 балл

Максимальный балл за работу – **15 балл**.

Рекомендуемая шкала перевода баллов в школьные отметки:

Школьная отметка	«Незачёт»	«Зачёт»
Первичные баллы	0 - 6	7 - 15

**Контрольная работа
по разделу «Царства природы»**

Вариант №1

1. Выбери правильный ответ:

1. Царство птиц
2. Царство грибов
3. Царство насекомых

2. Способы размножения растений

3. Что записано на «черных» страницах «Красной книги»?

4. Какое животное неправильно отнесено к группе по способу питания.

- 1) Белый медведь, акула, бурый медведь, тигр.
- 2) Олень, заяц, косуля, сова

5. Животные, у которых шесть лапок называются:

- а) насекомые б) птицы в) звери

6. Животные, тело которых покрыто перьями – это ...

- а) насекомые б) птицы в) звери

7. К какому классу относится лягушка?

- а) класс рыб б) класс земноводных

8. За что пресмыкающиеся получили своё название?

- а) за то, что они бегают б) за то, что они прыгают в) за то, что они ползают

9. Чем покрыто тело у земноводных?

- а) слизью б) чешуёй в) шерстью

10. К какому классу относится человек?

- а) к классу млекопитающих б) к классу людей в) к классу земноводных

11. Самая крупная птица – ...

- а) страус б) цапля в) пингвин

12. К какому классу относится кит?

- а) к классу млекопитающих б) к классу рыб в) к классу земноводных

13. У этих животных нет зубов, но есть клюв:

- а) птицы б) рыбы в) пресмыкающиеся.

14. Что будет, если в цепи питания «рожь -- мышь -- лисы», если люди уничтожат лис?

- а) станет больше мышей, уменьшится урожай ржи;
- б) станет больше мышей, увеличится урожай ржи;
- в) сначала станет больше мышей, а затем уменьшится урожай ржи, что повлечет за собой уменьшение количества мышей.

15. Какая группа животных выкармливает своих детёнышей молоком:

- а) птицы б) звери в) земноводные

Вариант №2

1. Выбери правильный ответ:

1. Царство рыб
2. Царство бактерий

3. Царство насекомых

2. Способы размножения растений

3. Что записано на «красных» страницах «Красной книги»?

4. Какое животное неправильно отнесено к группе по способу питания.

- а) Крот, мышь, ласточка, щука.
- б) Олень, заяц, кабан, косуля.

5. Животные, у которых восемь лапок называются:

- а) насекомые б) пауки в) птицы

6. Животные, тело которых покрыто чешуёй – это ...

- а) насекомые б) птицы в) рыбы

7. К какому классу относится тритон?

- а) класс рыб б) класс земноводных

8. За что земноводные получили своё название?

- а) за то, что они хорошо плавают и бегают
- б) за то, что могут жить и на суше, и в воде
- в) за то, что они рождаются в воде, а живут на суше

9. Чем покрыто тело у пресмыкающихся?

- а) слизью б) чешуйками в) шерстью

10. К какому классу относится человек?

- а) к классу млекопитающих б) к классу людей в) к классу земноводных

11. Самая маленькая птица – ...

- а) колибри б) воробей в) королёк

12. К какому классу относится акула?

- а) к классу млекопитающих б) к классу рыб в) к классу земноводных

13. У этих животных нет зубов, но есть клюв:

- а) птицы б) рыбы в) пресмыкающиеся.

14. Что будет, если в цепи питания «пшеница -- мыши -- совы», если люди уничтожат волков?

- а) станет больше мышей, уменьшится урожай пшеницы;
- б) сначала станет больше мышей, а затем уменьшится урожай пшеницы, что повлечет за собой уменьшение количества мышей;
- в) станет больше мышей, увеличится урожай пшеницы.

15. К какой группе животных относится клещ?

- а) насекомые
- б) паукообразные
- в) моллюски

Ключи к работе:

№ п/п	Правильный ответ 1 вариант	Правильный ответ 2 вариант	Баллы
1	2	2	1 балл
2	Луковицами, черенками, клубнями, семенами	Луковицами, черенками, клубнями, семенами	За каждый верный ответ – 0,5 балл. Максимально – 2 балла
3	Исчезнувшие виды животных и растений	Виды животных и растений. Которые находятся на грани исчезновения.	1 балл
4	Акула, сова	Щука, кабан	За каждый верный ответ - 1 балл. Максимально – 2 балла
5	А	Б	1 балл
6	Б	В	1 балл
7	Б	Б	1 балл
8	В	Б	1 балл
9	А	Б	1 балл
10	А	А	1 балл
11	А	А	1 балл
12	А	Б	1 балл
13	А	А	1 балл
14	В	Б	1 балл
15	Б	Б	1 балл

Максимальный балл за работу – **17 баллов**.

Рекомендуемая шкала перевода баллов в школьные отметки:

Школьная отметка	«Незачёт»	«Зачёт»
Первичные баллы	0 – 7,5	8 - 17

Итоговая контрольная работа

Цель: итоговая проверка качества усвоения практического и теоретического учебного материала за курс 3 класса по окружающему миру.

1. Как называется наука, изучающая живую природу:

- а) астрономия б) экология в) биология г) анатомия

2. Что отличает человека от других живых существ:

- а) движение б) рост в) разум г) дыхание

3. Что относится к характеристике страны:

- а) цвет кожи
б) государственные символы
в) национальные песни
г) жизнь под одной крышей

4. Укажи культурное травянистое растение:

- а) рожь б) крапива в) осот г) одуванчик

5. Что не относится к телам:

- а) луна б) камень в) соль г) карандаш

6. Какое животное относится к группе насекомых:

- а) паук б) дождевой червь в) стрекоза г) рак

7. Какой орган относится к кровеносной системе:

- а) почки б) лёгкие в) сердце г) мозг

8. О чём идёт речь в тексте?

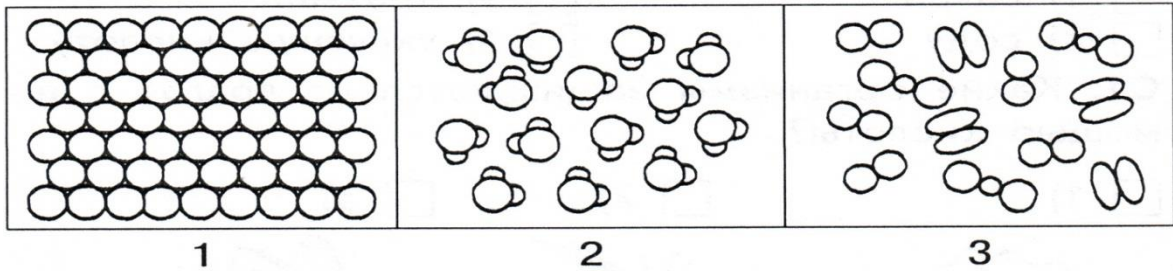
В нём часто встречаются раковины разнообразной формы и величины, потому что он образовался на дне морей и океанов из раковин и скелетов морских животных. Используют его в строительстве, а также как удобрение.

- 1) об известняке 3) о торфе
2) о жемчуге 4) о песке

9. Из чего делают бензин:

- а) из торфа б) из нефти в) из железной руды г) из природного газа

10. Какая схема относится к твёрдым веществам?



11. Что даёт животноводство:

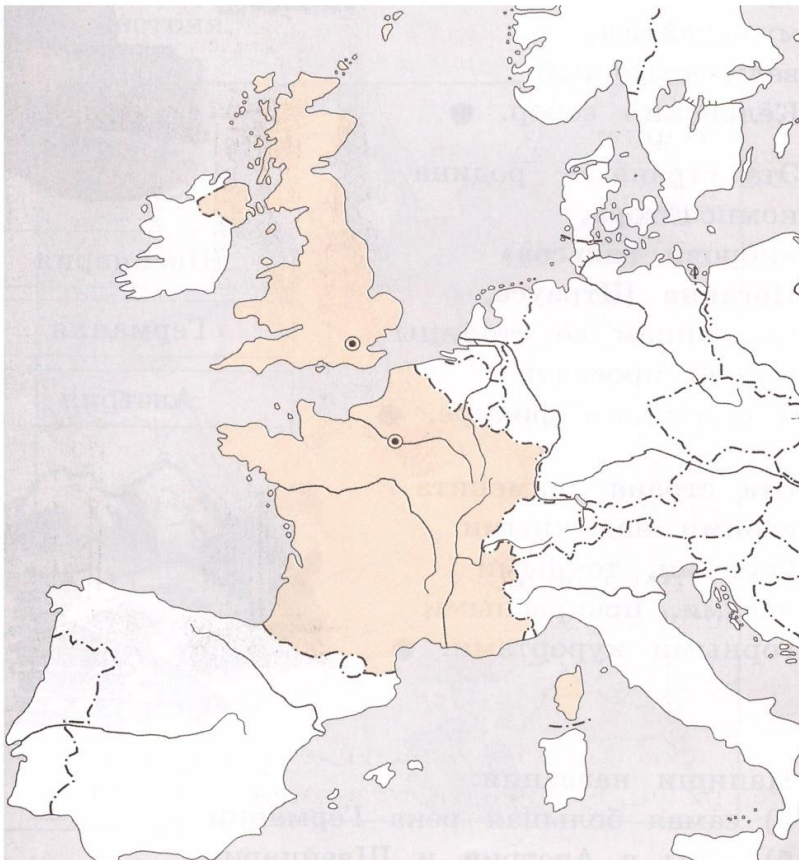
- а) шерсть б) овощи в) зерно г) лён

12. Какие знаки относятся к знакам сервиса?

1. движение пешеходов запрещено 3. место остановки трамвая
2. автозаправочная станция 4. пункт питания

13. Пронумеруй страны. Подпиши их столицы.

- 1) Великобритания 2) Франция



14. Какие цепи питания можно составить из этих живых существ: волк, ель, заяц, куница, осина, белка?

- 1) куница – белка – ель
- 2) осина – заяц – волк
- 3) ель – белка – куница
- 4) ель – куница – волк

15. Какую роль играет опорно-двигательная система?

- 1) обеспечивает опору и движение организма
- 2) защищает многие внутренние органы от повреждений
- 3) обеспечивает процесс пищеварения
- 4) выводит из организма вредные вещества

16. Какие номера телефонов ты должен знать на случай опасности:

- а) 01 б) 025 в) 03 г) 04

17. Какие города входят в Золотое кольцо?

- 1) Санкт-Петербург 2) Суздаль 3) Владимир 4) Углич

18. Прочитай:

Сахарница, сахар, солонка, соль, вода, бутылка, кислород, молоко, водород.

Выпиши из списка:

- А) твёрдые вещества _____
- Б) жидкие вещества _____
- В) газы _____

19. Что воспринимает каждый орган чувств? Допиши предложения.

Глаза – орган _____.

Кожа – орган _____.

Нос – орган _____.

20. Чем полезны бактерии?

- 1) помогают переваривать пищу
- 2) их добавляют в тесто
- 3) очищают воздух
- 4) делают из молока йогурт

№ п/п	Правильный ответ	Баллы
1	В	1 балл
2	В	1 балл
3	Б	1 балл
4	А	1 балл
5	В	1 балл
6	В	1 балл
7	В	1 балл
8	1	1 балл
9	Б	1 балл
10	1	1 балл
11	А	1 балл
12	2, 4	2 балла
13	1.Лондон 2.Париж	2 балла
14	2, 3.	2 балла
15	1, 2.	2 балла
16	А. В. Г.	3 балла
17	2, 3, 4.	3 балла
28	А. сахар, соль. Б. вода, молоко. В. кислород, водород.	3 балла
19	Зрение, осязание, обоняние.	3 балла
20	1, 2, 4.	3 балла

Школьная отметка	«Незачёт»	«Зачёт»
Первичные баллы	17 и менее	18 - 34

4 класс

4 класс

Входная контрольная работа по окружающему миру

1.Рекомендации по проведению:

Время выполнения работы 40 минут

2.Критерии оценивания

Исправления, сделанные ребенком, ошибкой не считаются.

«Зачёт» - верно выполнено более 50% заданий.

«Незачёт» - верно выполнено менее 50% заданий.

1 вариант

1. Распредели перечисленные организмы по царствам, вписав их названия в нужные клетки таблицы.

Ландыш, подосиновик, жук-носорог, мухомор, калина, куница

грибы	растения	животные

2. Что образуется из остатков умерших растений и животных под действием микробов?

- а) вода
- б) соли
- в) песок
- г) глина
- д) перегной

3. Соедините стрелками тела и состояния веществ, в котором они существуют.

ложка

кипяток

воздух

газообразное

твёрдое

жидкое

4. Перечислите, из каких газов состоит воздух:

5. Что приводит тело в движение?

- а) кости
- б) мышцы
- в) желудок

6. В каком ряду перечислены только органы пищеварительной системы?

- а) ротовая полость, глотка, лёгкие, желудок, кишечник
- б) пищевод, головной мозг, глаза, сердце, кишечник
- в) ротовая полость, глотка, пищевод, желудок, кишечник

7. Приведите по два примера:

Естественные тела: _____

Искусственные тела: _____

8. С какого возраста разрешено выезжать на велосипеде на дорогу?

- а) с 12 лет
- б) с 14 лет
- в) с 18 лет.

9. Экологическая безопасность - это:

- а) защита от молний, грозы, бури
- б) защита от ядовитых растений и опасных животных
- в) защита от вредного воздействия загрязнённой окружающей среды

10. Что дает животноводство людям?

- а) мясо, шерсть, пух, кожу
- б) фрукты, ягоды, овощи
- в) хлопок, лен, рис

11. Из чего складывается бюджет?

- а) из зарплаты и стипендии
- б) из денег
- в) из доходов и расходов

12. Что такое заповедник?

- а) участок земли, где вся природа находится под строгой охраной
- б) участок земли, предназначенный для отдыха людей
- в) участок земли, где выращивают редкие растения со всего мира
- г) участок земли, где разводят разных редких животных

13. Какие города входят в Золотое кольцо России:

- а) Суздаль
- б) Томск
- в) Воронеж
- г) Кострома

14. Заполни таблицу. Отметь знаком «+» свой выбор в соответствующем столбце.

Группы животных	Способы размножения		
	откладывают яйца	откладывают икру	рожают детёнышей
<i>Насекомые</i>			
<i>Рыбы</i>			
<i>Земноводные</i>			
<i>Птицы</i>			
<i>Звери</i>			

Входная контрольная работа по окружающему миру, 4 класс

1 вариант (ключи)

1.	Грибы: подосиновик, мухомор. Растения: ландыш, калина. Животные: жук-носорог, куница	2 балла
2.	д) перегной	1 балл
3.	Ложка-твёрдое, кипяток-жидкое, воздух-газообразное	3 балла
4.	Углекислый газ, кислород, азот	3 балла
5.	б) мышцы	1 балл
6.	в) ротовая полость, глотка, пищевод, желудок, кишечник	1 балл
7.	Естественные тела – тела природы; искусственные – тела, созданные руками человека	2 балла
8.	б) с 14-ти лет	1 балл
9.	в) защита от вредного воздействия загрязнённой окружающей среды	1 балл
10.	а) мясо, шерсть, пух, кожу	1 балл
11.	в) из доходов и расходов	1 балл
12.	а) Участок земли, где вся природа находится под строгой охраной	1 балл
13.	а) Суздаль, г) Кострома	2 балла
14.	Насекомые, птицы - откладывают яйца; рыбы, земноводные - откладывают икру; звери - рожают детёнышей	5 баллов
	Максимальное количество 25 балла	

Входная контрольная работа по окружающему миру, 4 класс

2 вариант

1. Распредели перечисленные организмы по царствам, вписав их названия в нужные клетки таблицы.

Рябина, белый гриб, бабочка, поганка, крапива, соболь

грибы	растения	животные

2. Что образуется из остатков умерших растений и животных под действием микробов?

- а) вода
- б) перегной
- в) соли
- г) песок
- д) глина

3. Соедините стрелками тела и состояния веществ, в котором они существуют.

пар

компот

вилка

твёрдое

газообразное

жидкое

4. Перечислите, из каких газов состоит воздух:

5. Что приводит тело в движение?

- а) кости б) сердце в) мышцы

6. В каком ряду перечислены только органы пищеварительной системы?

- а) ротовая полость, глотка, пищевод, желудок, кишечник
б) пищевод, головной мозг, глаза, сердце, кишечник
в) ротовая полость, глотка, лёгкие, желудок, кишечник

7. Приведите по два примера:

Искусственные тела: _____

Естественные тела: _____

8. С какого возраста разрешено выезжать на велосипеде на дорогу?

- а) с 18 лет б) с 12 лет в) с 14 лет

9. Экологическая безопасность - это:

- а) защита от вредного воздействия загрязнённой окружающей среды
б) защита от молний, грозы, бури
в) защита от ядовитых растений и опасных животных

10. Что дает животноводство людям?

- а) хлопок, лен, рис
б) фрукты, ягоды, овощи
в) мясо, шерсть, пух, кожу

11. Из чего складывается бюджет?

- а) из зарплаты и стипендии
- б) из доходов и расходов
- в) из денег

12. Что такое заповедник?

- а) участок земли, где выращивают редкие растения со всего мира
- б) участок земли, предназначенный для отдыха людей
- в) участок земли, где вся природа находится под строгой охраной
- г) участок земли, где разводят разных редких животных

13. Какие города входят в Золотое кольцо России:

- а) Воронеж
- б) Суздаль
- в) Кострома
- г) Томск

14. Заполни таблицу. Отметь знаком «+» свой выбор в соответствующем столбце.

Группы животных	Способы размножения		
	откладывают яйца	откладывают икру	рожают детёнышей
<i>Звери</i>			
<i>Птицы</i>			
<i>Земноводные</i>			
<i>Рыбы</i>			
<i>Насекомые</i>			

Входная контрольная работа по окружающему миру, 4 класс

2 вариант (ключи)

1.	Грибы: белый гриб, поганка. Растения: рябина, крапива. Животные: бабочка, соболь	2 балла
2.	б) перегной	1 балл
3.	Пар-газообразное, компот-жидкое, вилка-твердое	3 балла
4.	Углекислый газ, кислород, азот	3 балла
5.	в) мышцы	1 балл
6.	а) ротовая полость, глотка, пищевод, желудок, кишечник	1 балл
7.	Искусственные – тела, созданные руками человека, естественные тела – тела природы	2 балла
8.	в) с 14-ти лет	1 балл
9.	а) защита от вредного воздействия загрязнённой окружающей среды	1 балл

10.	в) мясо, шерсть, пух, кожу	1 балл
11.	б) из доходов и расходов	1 балл
12.	в) участок земли, где вся природа находится под строгой охраной	1 балл
13.	б) Суздаль, в) Кострома	2 балла
14.	Насекомые, птицы - откладывают яйца; рыбы, земноводные - откладывают икру; звери - рожают детёнышей	5 баллов
Максимальное количество 25 балла		

Контрольная работа №2

1 вариант

1. Какое небесное тело является спутником Земли?

- 1) Солнце 2) Луна 3) Большая Медведица

2. Направление на какую сторону света указывает Полярная звезда?

- 1) юг 2) запад 3) восток 4) север

3. Какие горы являются условной границей между Европой и Азией?

- 1) Уральские горы 2) Алтай 3) Кавказские горы

4. Какое озеро является самым глубоким пресным озером мира?

- 1) Ладожское 2) Онежское 3) Байкал

5. В Арктике обитают животные:

- 1) бобры, нутрии, хомяки
 2) волки, белые медведи, рыси
 3) моржи, тюлени, белые медведи

6. Главным занятием коренного населения тундры является:

- 1) земледелие 2) оленеводство 3) разведение пчёл

7. Какой лес называется тайгой?

- 1) хвойный 2) лиственный 3) широколиственный

8. Какое лето в зоне степей?

- 1) тёплое, продолжительное, засушливое

2) короткое, прохладное, дождливое

9. Какое утверждение будет верным для описания зоны пустынь?

- 1) выпадают осадки в виде дождя, иногда и снега
- 2) часто бывают продолжительные ливни
- 3) чаще всего осадков не бывает

10. Страна, в которой я живу, расположена на материке:

- 1) Антарктида 2) Евразия 3) Австралия 4) Африка

11. К естественным водоёмам относятся:

- 1) река, озеро, море, океан, пруд
- 2) река, озеро, море, океан, водохранилище
- 3) река, озеро, море, океан, ручей

12. В каком ряду перечислены только полезные ископаемые, используемые в качестве топлива?

- 1) гранит, нефть, железная руда
- 2) торф, природный газ, каменный уголь
- 3) каменный уголь, глина, нефть

2 вариант

1. Какое небесное тело является спутником Земли?

- 1) Солнце 2) Большая Медведица 3) Луна

2. Направление на какую сторону света указывает Полярная звезда?

- 1) север 2) запад 3) восток 4) юг

3. Какие горы являются условной границей между Европой и Азией?

- 1) Кавказские горы 2) Алтай 3) Уральские горы

4. Какое озеро является самым глубоким пресным озером мира?

- 1) Байкал 2) Онежское 3) Ладожское

5. В Арктике обитают животные:

- 1) бобры, нутрии, хомяки
- 2) моржи, тюлени, белые медведи
- 3) волки, белые медведи, рыси

6. Главным занятием коренного населения тундры является:

- 1) оленеводство 2) земледелие 3) разведение пчёл

7. Какой лес называется тайгой?

- 1) лиственный 2) хвойный 3) широколиственный

8. Какое лето в зоне степей?

- 1) короткое, прохладное, дождливое
- 2) тёплое, продолжительное, засушливое

9. Какое утверждение будет верным для описания зоны пустынь?

- 1) чаще всего осадков не бывает
- 2) часто бывают продолжительные ливни
- 3) выпадают осадки в виде дождя, иногда и снега

10. Страна, в которой я живу, расположена на материке:

- 1) Антарктида 2) Африка 3) Австралия 4) Евразия

11. К естественным водоёмам относятся:

- 1) река, озеро, море, океан, пруд
- 2) река, озеро, море, океан, ручей
- 3) река, озеро, море, океан, водохранилище

12. В каком ряду перечислены только полезные ископаемые, используемые в качестве топлива?

- 1) каменный уголь, глина, нефть

- 2) гранит, нефть, железная руда
- 3) торф, природный газ, каменный уголь

Контрольная работа по окружающему миру, 4 класс

1 вариант, (ключи)

1.	2) Луна	1 балл
2.	4) север	1 балл
3.	1) Уральские горы	1 балл
4.	3) Байкал	1 балл
5.	3) моржи, тюлени, белые медведи	1 балл
6.	2) оленеводство	1 балл
7.	1) хвойный	1 балл
8.	1) тёплое, продолжительное, засушливое	1 балл
9.	3) чаще всего осадков не бывает	1 балл
10.	2) Евразия	1 балл
11.	3) река, озеро, море, океан, ручей	1 балл
12.	2) торф, природный газ, каменный уголь	1 балл
Максимальное количество 12 баллов		

Контрольная работа по окружающему миру, 4 класс

2 вариант, (ключи)

1.	3) Луна	1 балл
2.	1) север	1 балл
3.	3) Уральские горы	1 балл
4.	1) Байкал	1 балл
5.	2) моржи, тюлени, белые медведи	1 балл
6.	1) оленеводство	1 балл
7.	2) хвойный	1 балл
8.	2) тёплое, продолжительное, засушливое	1 балл
9.	1) чаще всего осадков не бывает	1 балл
10.	4) Евразия	1 балл
11.	2) река, озеро, море, океан, ручей	1 балл
12.	3) торф, природный газ, каменный уголь	1 балл
Максимальное количество 12 баллов		

Итоговая контрольная работа

Работа представлена в одном варианте

1. Назови науку, изучающую Землю

- 1) история
- 2) астрономия
- 3) география
- 4) **экология**

2. Укажи, что не является планетой

- 1) Нептун
- 2) **Солнце**
- 3) Плутон
- 4) Земля

3. Укажите, что образуется на месте цветка у растений

- 1) **плод**
- 2) ветка
- 3) корень
- 4) лист

4. Выбери вещественный источник информации

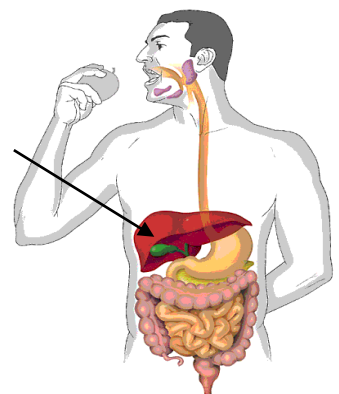
- 1) сказка
- 2) былина
- 3) поговорка
- 4) **монета**

5. Из зёрен каких растений делают кашу «Геркулес»

- 1) пшеницы
- 2) рис
- 3) **овёс**
- 4) просо

6. Какая система органов изображена на рисунке:

- 1) **пищеварительная система**
- 2) дыхательная система
- 3) кровеносная система
- 4) нервная система



7. Определи, что не растет в лесной зоне

- 1) клюква
- 2) малина
- 3) **ягель**
- 4) шиповник

8. Укажи птиц из Красной Книги

- 1) кречет
- 2) **утка-мандаринка**
- 3) стерх
- 4) дятел

9. Укажи более ранний период истории

1) Средние века

3) Первобытная история

2) Древний мир

4) Новейшее время

10 Укажи, с кем сражалось народное ополчение, собранное Мининым и Пожарским?

1) с немцами

2) со шведами

3) с монголо- татарами

4) с поляками

В1. В каком документе прописаны основные законы нашей страны?

В2. А на каком материке расположена наша страна?
